

**Проверочная работа
по МАТЕМАТИКЕ**

4 КЛАСС

Вариант 5

Инструкция по выполнению работы

На выполнение работы по математике даётся 45 минут. Работа содержит 11 заданий.

В заданиях, после которых есть поле со словом «Ответ», запиши ответ в указанном месте.

В задании 5 (пункт 2) нужно сделать чертёж или рисунок.

В заданиях, после которых есть поле со словами «Решение» и «Ответ», запиши решение и ответ в указанном месте.

Если ты хочешь изменить ответ, то зачеркни его и запиши рядом новый.

При выполнении работы нельзя пользоваться учебниками, рабочими тетрадями, справочниками, калькулятором.

При необходимости можно пользоваться черновиком. Записи в черновике проверяться и оцениваться не будут.

Советуем выполнять задания в том порядке, в котором они даны. Для экономии времени пропускай задание, которое не удаётся выполнить сразу, и переходи к следующему. Постарайся выполнить как можно больше заданий.

Желаем успеха!

1

Найди значение выражения $116 - 22$.

--

Ответ:

--	--	--	--	--	--	--	--	--	--	--	--	--	--	--	--	--	--	--	--

2

Найди значение выражения $(39 + 24) : 3 - 9$.








--

Ответ:

--	--	--	--	--	--	--	--	--	--	--	--	--	--	--	--	--	--	--	--

3

В магазине продаются бакалейные товары в упаковках. На рисунке показаны цены.

Гречневая крупа.....79 руб. 	Перловая крупа.....43 руб. 	Пшеничная крупа.....45 руб. 
Манная крупа.....35 руб. 	Кукурузная крупа.....29 руб. 	Овсяные хлопья.....37 руб. 
Рис круглозерный.....49 руб. 	Фасоль.....103 руб. 	Горох.....53 руб. 

Сколько всего рублей надо заплатить за две упаковки гороха и одну упаковку манной крупы? Запиши решение и ответ.

--

Решение:

--	--	--	--	--	--	--	--	--	--	--	--	--	--	--	--	--	--	--	--

Ответ:

--	--	--	--	--	--	--	--	--	--	--	--	--	--	--	--	--	--	--	--

4

На рисунке показан календарь на декабрь 2006 года. Каким днём недели в 2007 году было 7 января?

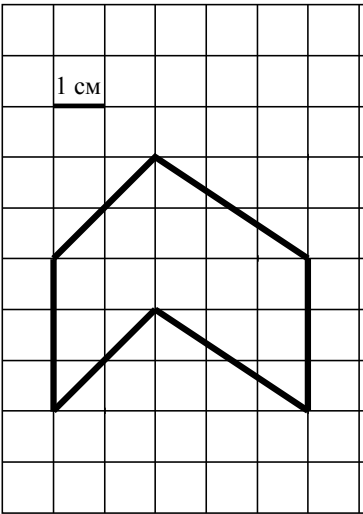
Декабрь

пн	вт	ср	чт	пт	сб	вс
				1	2	3
4	5	6	7	8	9	10
11	12	13	14	15	16	17
18	19	20	21	22	23	24
25	26	27	28	29	30	31

Ответ:	

5


На клетчатой бумаге нарисована фигура. Сторона клетки равна 1 см.



1) Найди площадь этой фигуры. Ответ дай в кв. см.

Ответ:	

2) Нарисуй по клеточкам прямоугольник, площадь которого равна площади изображённой фигуры.



9) Маша, Нина и Олег собирали груши. Маша набрала 16 вёдер груш, Олег набрал на 8 вёдер груш меньше, чем Маша и Нина вместе. Один из троих ребят набрал 6 вёдер груш.

1) Сколько вёдер груш набрала Нина?

Ответ: <input type="text"/>	<input type="text"/>	<input type="text"/>	<input type="text"/>	<input type="text"/>	<input type="text"/>	<input type="text"/>	<input type="text"/>	<input type="text"/>	<input type="text"/>	<input type="text"/>	<input type="text"/>	<input type="text"/>	<input type="text"/>	<input type="text"/>	<input type="text"/>	<input type="text"/>	<input type="text"/>	<input type="text"/>	<input type="text"/>	<input type="text"/>
	<input type="text"/>	<input type="text"/>	<input type="text"/>	<input type="text"/>	<input type="text"/>	<input type="text"/>	<input type="text"/>	<input type="text"/>	<input type="text"/>	<input type="text"/>	<input type="text"/>	<input type="text"/>	<input type="text"/>	<input type="text"/>	<input type="text"/>	<input type="text"/>	<input type="text"/>	<input type="text"/>	<input type="text"/>	<input type="text"/>

2) Сколько всего вёдер груш набрали ребята?

Ответ: <input type="text"/>	<input type="text"/>	<input type="text"/>	<input type="text"/>	<input type="text"/>	<input type="text"/>	<input type="text"/>	<input type="text"/>	<input type="text"/>	<input type="text"/>	<input type="text"/>	<input type="text"/>	<input type="text"/>	<input type="text"/>	<input type="text"/>	<input type="text"/>	<input type="text"/>	<input type="text"/>	<input type="text"/>	<input type="text"/>	<input type="text"/>
	<input type="text"/>	<input type="text"/>	<input type="text"/>	<input type="text"/>	<input type="text"/>	<input type="text"/>	<input type="text"/>	<input type="text"/>	<input type="text"/>	<input type="text"/>	<input type="text"/>	<input type="text"/>	<input type="text"/>	<input type="text"/>	<input type="text"/>	<input type="text"/>	<input type="text"/>	<input type="text"/>	<input type="text"/>	<input type="text"/>

10) Аня смотрит на прозрачную дверь изнутри магазина.



Что написано на двери?

Ответ: <input type="text"/>	<input type="text"/>	<input type="text"/>	<input type="text"/>	<input type="text"/>	<input type="text"/>	<input type="text"/>	<input type="text"/>	<input type="text"/>	<input type="text"/>	<input type="text"/>	<input type="text"/>	<input type="text"/>	<input type="text"/>	<input type="text"/>	<input type="text"/>	<input type="text"/>	<input type="text"/>	<input type="text"/>	<input type="text"/>	<input type="text"/>
	<input type="text"/>	<input type="text"/>	<input type="text"/>	<input type="text"/>	<input type="text"/>	<input type="text"/>	<input type="text"/>	<input type="text"/>	<input type="text"/>	<input type="text"/>	<input type="text"/>	<input type="text"/>	<input type="text"/>	<input type="text"/>	<input type="text"/>	<input type="text"/>	<input type="text"/>	<input type="text"/>	<input type="text"/>	<input type="text"/>

- 11 Аня вырезала из бумаги несколько пятиугольников и шестиугольников. Всего у вырезанных фигурок 37 вершин. Сколько пятиугольников вырезала Аня?
Запиши решение и ответ.

Решение:

Ответ: